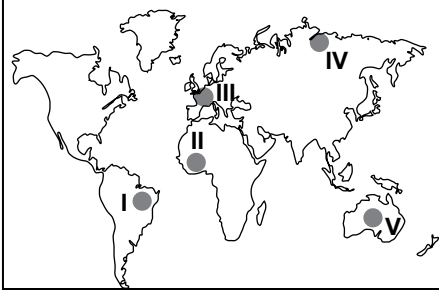


## SINIF Dünya'yı Birbirine Bağlayan Ağlar II

1.



Harita üzerinde numaralandırılarak verilen yerlerin hangisinde hava yolu taşımacılığı diğerlerine göre daha fazla gelişme göstermiştir?

- A) I B) II C) III D) IV E) V

2. Kara yolu taşımacılığı ile ilgili olarak aşağıda verilen bilgilerden hangisi yanlıştır?

- A) Kara yollarının kavşak noktalarında bulunan yerleşmeler genellikle yoğun nüfusludur.  
B) Deniz, hava ve demir yollarına göre kara yolu ulaşımı daha eski bir ulaşım sistemidir.  
C) Batı Avrupa ülkelerinde kara yolu taşımacılığı Orta Amerika ülkelerine göre daha fazla gelişmiştir.  
D) Kara yolu üzerinden yapılacak uluslar arası yolcu taşımacılığı hava yollarına göre daha pahalıdır.  
E) Deniz yolu taşımacılığının gelişme göstermesinde kara yolu ulaşımının katkıları vardır.

3. Aşağıda verilen su yollarından hangisi Karadeniz kıyısında yer alan limanlar için diğerlerine göre daha fazla öneme sahiptir ?

- A) Dover Boğazı  
B) Süveyş Kanalı  
C) İstanbul Boğazı  
D) Macellan Boğazı  
E) Cebelitarık Boğazı

4. İzmir limanından yola çıkan bir yük gemisi Hollanda'nın Rotterdam Limanı'na ulaşmak için;

- I. Çanakkale Boğazı  
II. Cebelitarık Boğazı  
III. Süveyş Kanalı  
IV. Dover Boğazı

numaralandırılarak verilen su yollarından hangilerini kullanırsa daha kısa mesafeden ulaşır?

- A) I ve II  
B) I ve III  
C) II ve III  
D) II ve IV  
E) III ve IV

5. Aşağıda verilen ülkelerden hangisinde hava yolu ulaşımı diğerlerine göre daha fazla gelişmiştir?

- A) Brezilya  
B) Romanya  
C) Meksika  
D) Almanya  
E) Tacikistan

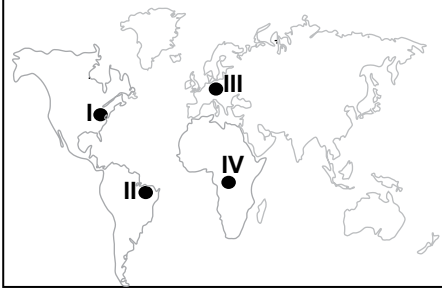
6. I. Gür bitki örtüsü  
II. Yükseltisi fazla olan sıradağlar  
III. Yağış rejiminin düzenli olması

Numaralandırılarak verilen özelliklerden hangileri kara yolu ulaşımını sınırlandıran faktörler arasında gösterilemez?

- A) Yalnız I  
B) Yalnız II  
C) Yalnız III  
D) I ve II  
E) I ve III

## Dünya'yı Birbirine Bağlayan Ağlar II

7.



Harita üzerinde numaralandırılarak verilen yerlerin hangilerinde demir yolu ulaşımı diğer ikisine göre daha fazla gelişme göstermiştir?

- A) I ve II
- B) I ve III
- C) II ve III
- D) II ve IV
- E) III ve IV

8. Kanal ve boğazlara sahip olan ülkelerin ekonomisi üzerinde bu kaynaklardan elde edilen gelirlerin payı bulunmaktadır.

Aşağıdaki ülkelerden hangisi böyle bir gelire sahip değildir?

- A) Mısır
- B) İzlanda
- C) Türkiye
- D) İspanya
- E) Endonezya

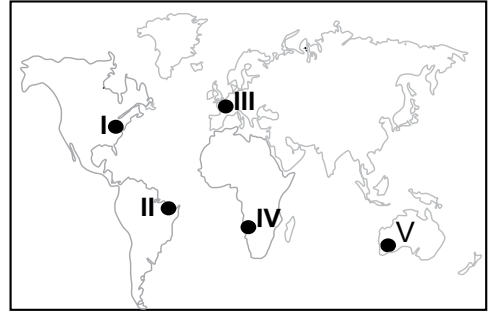
9. Aşağıda verilen yerlerden hangileri arasında deniz yolu ulaşımı diğerlerine göre daha yoğundur?

- A) Batı Avrupa - Kuzey Amerika
- B) Orta Afrika - Kuzey Avrupa
- C) Güney Amerika - Avustralya
- D) Orta Amerika - Güney Asya
- E) Avustralya - Kuzey Afrika

10. Aşağıda verilenlerden hangisinin uluslararası ekonomik ilişkilerin gelişmesindeki etkisi diğerlerine göre daha azdır?

- A) Alternatif ticaret yollarının bulunması
- B) Teknolojik gelişmelerin artması
- C) Ulaşım türlerinin çeşitlenmesi
- D) Sanayi üretiminin artış göstermesi
- E) Yerli tüketimin teşvik edilmesi

11.



Harita üzerinde numaralandırılarak verilen yerlerin hangileri arasında ticari faaliyetler diğerlerine göre daha yoğundur?

- A) I ve II
- B) I ve III
- C) II ve III
- D) III ve IV
- E) IV ve V

ÖLÇME, DEĞERLENDİRME VE SINAV HİZMETLERİ GENEL MÜDÜRLÜĞÜ



Adı : .....

Soyadı : .....

Sınıf : .....

NO : .....

1	2	3	4	5	6	7	8	9	10	11	12
A	A	A	A	A	A	A	A	A	A	A	A
B	B	B	B	B	B	B	B	B	B	B	B
C	C	C	C	C	C	C	C	C	C	C	C
D	D	D	D	D	D	D	D	D	D	D	D
E	E	E	E	E	E	E	E	E	E	E	E

Doğru : .....

Yanlış : .....

Boş : .....

Puan : .....