

SINIF Bölgeler ve Ülkeler

1. Yeryüzünde fiziki ve beşeri özellikleri bakımından birbirinden farklı bölgeler oluşturulabilir.

Aşağıda verilen bölgelerden hangisi beşeri özellikler dikkate alınarak oluşturulmuştur?

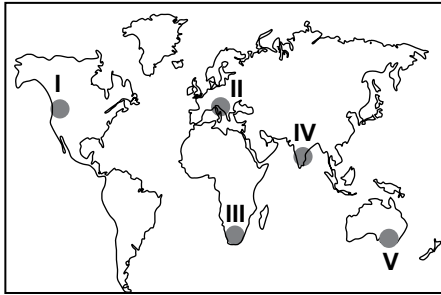
- A) Dağlık bölgeler
B) Turizm bölgeleri
C) Muson iklim bölgesi
D) Sıcak su kaynakları bölgesi
E) Çayır bitki topluluğu bölgesi

2. Doğal özelliklerine göre oluşturulan bölge sınırlarının değişimi, beşeri özelliklerine göre oluşturulan bölge sınırlarının değişiminden daha zordur.

Buna göre aşağıda verilen bölge sınıflandırmalarından hangisinin sınırlarının zaman içerisinde değişimi diğerlerine göre daha zordur?

- A) Maden bölgesi
B) Tarım bölgesi
C) Turizm bölgesi
D) İklim bölgesi
E) Sanayi bölgesi

3.



Haritada numaralandırılarak verilen yerlerin hangisi Muson İklim Bölgesi sınırları içerisinde yer alır?

- A) I B) II C) III D) IV E) V

4. **Ülkemiz sınırları içerisinde aşağıdaki bölge sınıflandırmalarından hangisi yapılamaz?**

- A) Dağlık bölgeler
B) Akdeniz iklim bölgesi
C) Deprem kuşağı bölgesi
D) Aktif yanardağlar bölgesi
E) Karışık yapraklı ormanlar bölgesi

5. I. İklim özelliklerine göre oluşturulan bölgelerin sınırlarını kesin hatlarla birbirinden ayırmak zordur.
II. Ekonomik özelliklerine göre belirlenmiş bölge sınırları zamanla değişebilir.
III. Amazon ve Kongo havzaları aynı iklim bölgesi sınırları içerisinde yer alırlar.

Bölge sınıflandırması ile ilgili olarak yukarıda verilen bilgilerden hangileri doğrudur?

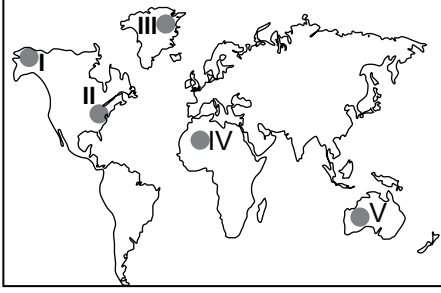
- A) Yalnız I B) I ve II C) I ve III
D) II ve III E) I, II ve III

6. **Aşağıda verilen iklim ve bitki örtüsü bölgeleri eşleştirmelerinden hangisinin sınırları benzerlik göstermez?**

İklim bölgesi	Bitki örtüsü bölgesi
A) Akdeniz	Maki
B) Muson	Tundra
C) Step	Bozkır
D) Savan	Savan
E) Ekvatorial	Orman

Bölgeler ve Ülkeler

7.



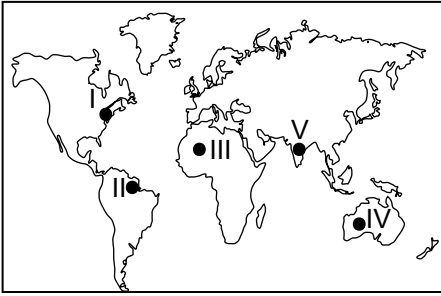
Yukarıdaki haritada numaralandırılarak verilen yerlerin hangisi sanayi bölgesi sınırları içerisinde yer alır?

- A) I B) II C) III D) IV E) V

8. Aşağıda verilen bölgelerden hangisi ekonomik özelliklerine göre oluşturulmuş bir bölge sınıflandırmasıdır?

- A) Seyrek nüfuslu bölge
B) Sıcak iklim bölgesi
C) Kültür bölgesi
D) Ticaret bölgesi
E) Dağlık bölge

9.



Yukarıdaki haritada numaralandırılarak verilen yerlerden hangileri çöl bölgeleri içerisinde yer alır?

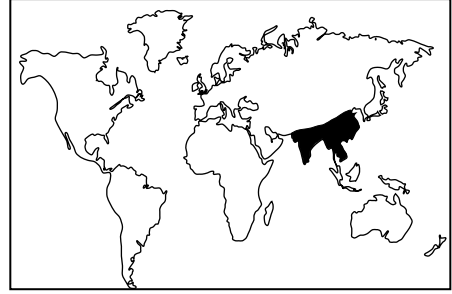
- A) I ve II B) II ve III C) III ve IV
D) I ve V E) IV ve V

10. Siyasi bölgelerden bazıları zamanla işlevini yitirip ortadan kalkmıştır.

Aşağıdakilerden hangisi bu bölgelere örnek olarak gösterilebilir?

- A) Karadeniz Ekonomik İş Birliği Teşkilatı
B) İslam Konferans Örgütü
C) Birleşmiş Milletler
D) Sadabad Paketi
E) Avrupa Birliği

11. Aşağıdaki haritada muson iklim bölgesi taranarak gösterilmiştir.



Aşağıdaki ülkelerin hangisinin muson iklim bölgesi sınırları içerisinde toprakları yoktur?

- A) Arabistan B) Çin
C) Hindistan D) Pakistan
E) Güney Kore

12. Aşağıda verilen ülkelerden hangisinin Ekvatorial iklim bölgesi sınırları içerisinde toprakları yoktur?

- A) Brezilya
B) Malezya
C) Bolivya
D) Tunus
E) Kenya

ÖLÇME, DEĞERLENDİRME VE SINAV HİZMETLERİ GENEL MÜDÜRLÜĞÜ



Adı :
Soyadı :
Sınıf :
NO :

1	2	3	4	5	6	7	8	9	10	11	12
A	A	A	A	A	A	A	A	A	A	A	A
B	B	B	B	B	B	B	B	B	B	B	B
C	C	C	C	C	C	C	C	C	C	C	C
D	D	D	D	D	D	D	D	D	D	D	D
E	E	E	E	E	E	E	E	E	E	E	E

Doğru :
Yanlış :
Boş :
Puan :