

SINIF Ülkemizin Genel Coğrafi Özellikleri

1. Yaşadığım yer dağın eteğinde kurulmuş küçük bir köy yerleşmesidir. Köyümüzün güneyinde yer alan düzlüklerde tarımsal faaliyetler yapılmaktadır. Kuzeyindeki engebeli alanlarda ise hayvancılık faaliyetleri yapılır. Köyümüzün sınırları içerisinde yaz mevsiminde kuruyan dereler vardır. Köyümüzün nüfusu, verdiği göç nedeniyle yıldan yıla azalmaktadır.

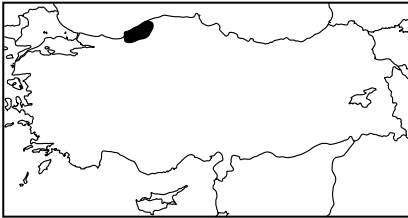
Yukarıda özellikleri verilen köy ile ilgili;

- I. Yaz mevsimi kurak geçmektedir.
II. Nüfusu giderek azalmaktadır.
III. Yerleşme dokusuna göre dağın kısırsal yerleşme özelliği göstermektedir.

İfadelerden hangileri söylenebilir?

- A) Yalnız I B) Yalnız III C) I ve II
D) I ve III E) II ve III

2.



Haritada üzerinde taralı alanda taş kömürü yataklarının bulunmasının nedeni olarak;

- I. denize kıyısının olması,
II. paleozoik döneme ait arazi olması,
III. doğal bitki örtüsünün orman olması,

verilenlerden hangileri gösterilir?

- A) Yalnız I B) Yalnız II C) I ve II
D) I ve III E) II ve III

3. Aşağıdakilerden hangisi ülkemizin orta kuşakta yer almasının bir sonucu olarak gösterilir?

- A) Üç tarafının denizlerle çevrili olması
B) Yıl içinde dört mevsimi belirgin olarak yaşaması
C) Güneyinden kuzeyine doğru gidildikçe sıcaklık ortalamasının azalması
D) Yıl içerisinde en uzun gündüz süresinin 21 Haziran tarihinde yaşanması
E) Ortalama yükseltisinin batıdan doğuya doğru gidildikçe artması

4. I. İklim özellikleri
II. Nüfus özellikleri
III. Yerçekimleri özellikleri
IV. Tarımsal faaliyetler

Yukarıda verilenlerden hangileri bir yerin fiziki özellikleri olarak gösterilir?

- A) I ve II B) I ve III C) II ve III
D) II ve IV E) III ve IV

5. Ülkemizde batıdan doğuya doğru gidildikçe genel olarak yükselti artmaktadır.

Buna bağlı olarak;

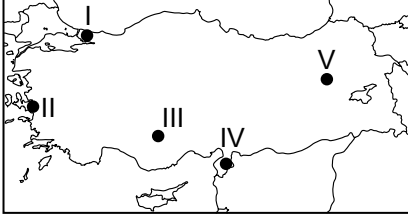
- I. ortalama sıcaklık değerleri
II. tarım ürünlerinin olgunlaşma süresi
III. kar örtüsünün yerde kalma süresi

verilenlerden hangilerinde artış görülmesi beklenir?

- A) Yalnız I B) Yalnız II C) I ve II
D) I ve III E) II ve III

Ülkemizin Genel Coğrafi Özellikleri

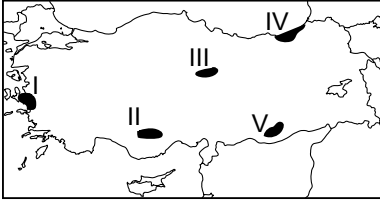
6.



Harita üzerinde numaralandırılarak verilen yerlerin hangisinde deprem riski diğerlerine göre **daha azdır**?

- A) I B) II C) III D) IV E) V

7.



Harita üzerinde numaralandırılarak verilen yerlerin hangisinde heyelan olayı görülme ihtimali diğer yerlere göre **daha fazladır**?

- A) I B) II C) III D) IV E) V

8. Aşağıda verilen yer şekli ve görüldüğü yer eşleştirmelerinden hangisi **yanlıştır**?

- | Yer şekli | Görüldüğü Yer |
|-----------------------|-------------------------|
| A) Traverten | Pamukkale - Denizli |
| B) Peribacaları | Ürgüp - Nevşehir |
| C) Dalmaçya tipi kıyı | Kaş - Antalya |
| D) Sirk gölleri | Menteşe dağları - Muğla |
| E) Alüvyal toprak | Çukurova - Adana |

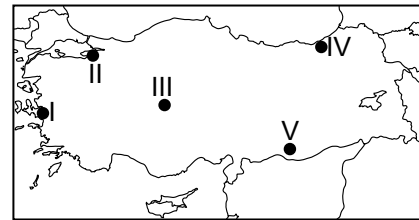
9. Aşağıda Türkiye ocak ayı ortalama sıcaklık dağılışı haritası verilmiştir.



Yalnızca haritada verilen bilgiler kullanıldığında aşağıdakilerden hangisine **ulaşamaz**?

- A) Batıdan Doğu'ya doğru gidildikçe sıcaklık değerlerinde azalma görülmektedir.
 B) Kıyı kesimlerde sıcaklık iç kesimlere göre daha yüksektir.
 C) Akdeniz kıyıları Karadeniz kıyılarına göre daha sıcaktır.
 D) Doğu Karadeniz kıyılarında, sıcaklık değeri 5 °C'nin üzerindedir.
 E) Van Gölü'nün en güneyinde sıcaklık değeri 4 °C'nin üzerindedir.

10. Nemli hava kütlelerinin bir dağ yamacı boyunca yükselmesi sonucunda oluşan yağışlara orografik yağış denir.



Harita üzerinde numaralandırılarak verilen yerlerin hangisinde orografik yağışların daha fazla oluşması beklenir?

- A) I B) II C) III D) IV E) V