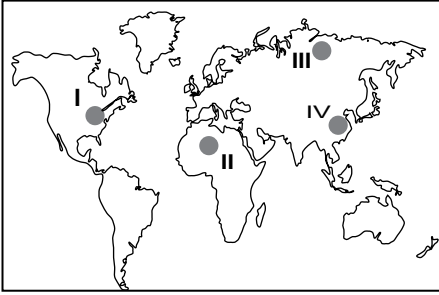


SINIF Yerleşmelerin Farklılaşması ve Özellikleri

1. Aşağıdakilerden hangisi beşeri coğrafyanın inceleme alanına girmez?

- A) Hayvancılık faaliyetleri
- B) Tarlaların ekilip biçilmesi
- C) İnsanların yer değiştirmesi
- D) Ulaşım faaliyetleri
- E) Göllerin oluşum sebepleri

2.



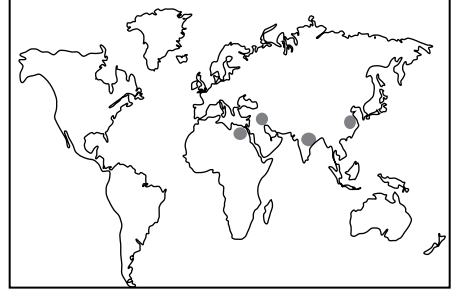
Haritada numaralandırılarak verilen yerlerin hangileri iklim koşullarının uygun olmaması sebebiyle diğerlerine göre daha az nüfuslanmıştır?

- A) I ve II
- B) I ve III
- C) II ve III
- D) II ve IV
- E) III ve IV

3. Aşağıdakilerden hangisi beşeri coğrafyanın alt dalları arasında gösterilemez?

- A) Turizm coğrafyası
- B) Siyasi coğrafya
- C) Toprak coğrafyası
- D) Sanayi coğrafyası
- E) Sağlık coğrafyası

4.



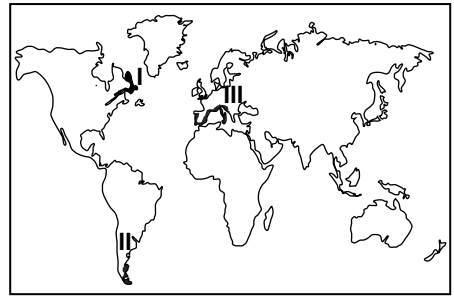
Yukarıdaki haritada ilk yerleşme faaliyetlerinin görüldüğü yerler gösterilmiştir. İnsanların öncelikle bu alanlara yerleşmesi üzerinde

- I. verimli tarım alanlarının varlığı
- II. su kaynaklarının yeterli olması
- III. yer altı kaynaklarının varlığı

numaralandırılarak verilenlerden hangileri etkili olmuştur?

- A) Yalnız II
- B) Yalnız III
- C) I ve II
- D) II ve III
- E) I, II ve III

5. Güneşli gün sayısının fazla ve sıcaklık değerlerinin yüksek olduğu kıyılarda deniz turizmi önemli bir ekonomik faaliyettir.



Buna göre, haritada numaralandırılarak verilen alanların hangilerinde deniz turizmi faaliyetlerinin gelişme göstermesi beklenir?

- A) Yalnız I
- B) Yalnız II
- C) Yalnız III
- D) I ve II
- E) II ve III

Yerleşmelerin Farklılaşması ve Özellikleri

6. Aşağıdakilerden hangisi beşeri faaliyetler arasında gösterilemez?

- A) Barajların inşa edilmesi
- B) Meskenlerin yapılması
- C) Ticari faaliyetlerde bulunulması
- D) Toprakların kimyasal çözünmesi
- E) Sanayi faaliyetlerinin yapılması

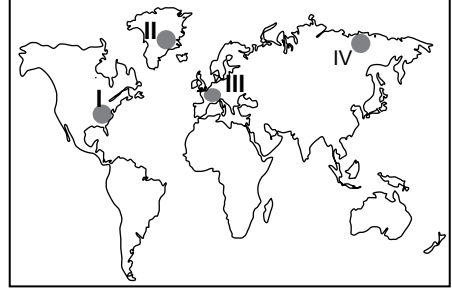
7. İnsanların barınaklarının şekli ve hangi tür malzemenin yapıldığı beşeri coğrafyanın aşağıda verilen alt dallarından hangisinin inceleme alanı içerisindedir?

- A) Sağlık coğrafyası
- B) Turizm coğrafyası
- C) Tarım coğrafyası
- D) Yerleşme coğrafyası
- E) Sanayi coğrafyası

8. Maden yataklarının dağılışı beşeri coğrafyanın aşağıda verilen alt dallarından hangisinin inceleme alanı içerisindedir?

- A) Tarım coğrafyası
- B) Turizm coğrafyası
- C) Ulaşım coğrafyası
- D) Hammaddeler coğrafyası
- E) Siyasi coğrafya

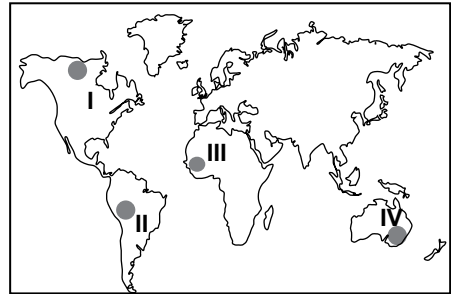
9. Sanayi faaliyetlerinin gelişmiş olduğu yerlerde genellikle ticaret faaliyetleri de gelişmiştir.



Buna göre haritada numaralandırılarak verilen yerlerin hangilerinde ticari faaliyetlerin diğerlerine göre daha fazla gelişme göstermesi beklenir?

- A) I ve II
- B) I ve III
- C) II ve III
- D) II ve IV
- E) III ve IV

10. Şehir yerleşmelerinin deniz seviyesinden yükseklikleri Ekvator'dan kutuplara doğru gidildikçe genellikle azalmaktadır.



Buna göre haritada numaralandırılarak verilen yerlerin hangi ikisinin yerleşme üst sınırının deniz seviyesinden diğerlerine göre daha yüksek olması beklenir?

- A) I ve II
- B) I ve III
- C) II ve III
- D) II ve IV
- E) III ve IV



Adı :

Soyadı :

Sınıf :

NO :

1	2	3	4	5	6	7	8	9	10	11	12
A	A	A	A	A	A	A	A	A	A	A	A
B	B	B	B	B	B	B	B	B	B	B	B
C	C	C	C	C	C	C	C	C	C	C	C
D	D	D	D	D	D	D	D	D	D	D	D
E	E	E	E	E	E	E	E	E	E	E	E

Doğru :

Yanlış :

Boş :

Puan :