

Doğal Kaynaklar

1. Doğal kaynaklar ekonomik etkinliklerin temelini oluşturur.

Aşağıda verilen ekonomik etkinlik ve doğal kaynak eşleştirmelerinden hangisi yanlıştır?

Doğal Kaynak**Ekonomik faaliyet**

- | | |
|----------------|-----------------------|
| A) Rüzgar gücü | Enerji üretimi |
| B) Orman | Kağıt üretimi |
| C) Dalga | Termik enerji üretimi |
| D) Toprak | Tarımsal üretim |
| E) Doğalgaz | Isınma |

2. Doğal kaynaklar ülkelerin gelişmişlik düzeyleri üzerinde etkili olan bir faktördür. Ancak doğal kaynak yönünden zengin olup gelişmişlik düzeyi düşük olan ülkeler de mevcuttur.

Doğal kaynak yönünden zengin olup da gelişmişlik düzeyi düşük olan ülkelerin gelişmemişliği üzerinde bu ülkelerin;

- I. teknolojik gelişmelere kapalı olması,
- II. araştırma geliştirme çalışmalarının yetersiz olması,
- III. hammaddelerin mamül maddeye dönüştürülebilmesi

faktörlerinden hangileri etkili olmuştur?

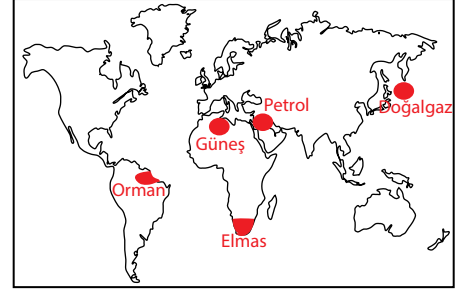
- A) Yalnız I
B) Yalnız II
C) I ve II
D) I ve III
E) II ve III

3. I. Ağaçlandırma çalışmalarının yapılması
II. Alternatif enerji kaynaklarının kullanımının artırılması
III. Orman alanlarının tarım azarilerine dönüştürülmesi

Yukarıda verilenlerden hangileri doğal kaynakların verimli kullanılması yönünde yapılacak olan doğru bir uygulamadır?

- A) Yalnız I
B) Yalnız II
C) I ve II
D) I ve III
E) II ve III

4.



Haritada verilen doğal kaynakların hangisi gösterildiği bölgenin önemli doğal kaynakları arasında değildir?

- A) Orman
B) Doğalgaz
C) Petrol
D) Elmas
E) Güneş

5. Aşağıda verilen ülkelerin hangisi doğal kaynaklarını diğerlerine göre daha verimli kullandığı söylenmez?

- A) Rusya
B) Kanada
C) Almanya
D) Japonya
E) Kazakistan

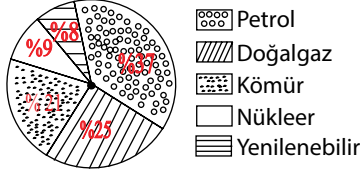
6. Güneşli gün sayısının fazla olduğu yerlerde güneş enerjisi için yapılacak olan yatırımlar olumlu sonuçlar vermektedir.

Aşağıda verilen yerlerin hangisi bu duruma örnek olarak gösterilemez?

- A) Batı Avrupa
B) Akdeniz Havzası
C) Orta Doğu
D) Kuzey Afrika
E) Orta Asya

Doğal Kaynaklar

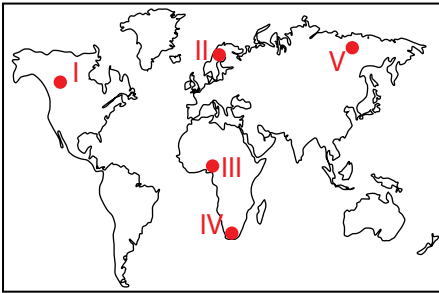
7. Aşağıdaki grafikte Dünya'daki enerji kaynaklarının kullanım oranı gösterilmiştir.



Yalnızca grafikteki bilgilere bakıldığında aşağıdaki bilgilerden hangisine ulaşılır?

- A) Yenilenebilir enerji kaynaklarının kullanımı sürekli artmaktadır.
 B) Dünya'nın nükleer enerji ihtiyacı her geçen gün artmaktadır.
 C) Yenilenebilir enerji kaynaklarından elde edilen enerji kömürden elde edilen enerjiden daha fazladır.
 D) Enerji kaynaklarının kullanımında fosil kaynakların oranı diğer kaynaklara göre daha fazladır.
 E) Doğal kaynaklar Dünya'nın enerji ihtiyacını karşılamamaktadır.

8. Ormanlar belirli koşullarda yenilenebilir doğal kaynaklar grubu içerisinde yer alır.



Haritada numaralandırılarak verilen yerlerin hangisinde bulunan ormanların diğerlerine göre daha kısa sürede yenilenmesi beklenir?

- A) I B) II C) III D) IV E) V

9. İzlanda, Şili, Japonya gibi birbirinden uzak olan ülkelerde jeotermal enerji kaynaklarından konutların ısıtılması, tarımsal faaliyetler, enerji üretimi gibi birçok alanda yararlanılmaktadır.

Bu durum bu ülkelerin aşağıdaki özelliklerinden hangisinin benzer olmasıyla açıklanır?

- A) İklim özellikleri
 B) Toprak türleri
 C) Jeolojik özellikleri
 D) Bitki örtüleri
 E) Gelişmişlikleri

10. Doğal kaynaklar ülkelerin;

- I. turizm faaliyetleri,
 II. ticari faaliyetler,
 III. sanayi üretimi

verilen ekonomik faaliyetlerinden hangilerini etkilemektedir?

- A) Yalnız I B) Yalnız II
 C) I ve II D) II ve III
 E) I, II ve III

11. Dünya genelinde doğal kaynaklara duyulan ihtiyaç her geçen gün artış göstermektedir.

Bu durumun nedenleri arasında;

- I. hızlı nüfus artışı,
 II. doğal kaynakların dağılışı,
 III. insan ihtiyaçlarının çeşitlenmesi

numaralandırılarak verilenlerden hangileri gösterilir?

- A) Yalnız I B) Yalnız II
 C) I ve II D) I ve III
 E) II ve III

ÖLÇME, DEĞERLENDİRME VE SINAV HİZMETLERİ GENEL MÜDÜRLÜĞÜ



Adı :
 Soyadı:.....
 Sınıf :
 NO :

1	2	3	4	5	6	7	8	9	10	11	12
A	A	A	A	A	A	A	A	A	A	A	A
B	B	B	B	B	B	B	B	B	B	B	B
C	C	C	C	C	C	C	C	C	C	C	C
D	D	D	D	D	D	D	D	D	D	D	D
E	E	E	E	E	E	E	E	E	E	E	E

Doğru :
 Yanlış :
 Boş :
 Puan :