

Üretim, Dağıtım ve Tüketimi Etkileyen Doğal ve Beşeri Faktörler

1. Gıda sanayisi genellikle tarımsal üretim alanlarına yakın yerlerde gelişme göstermiştir.

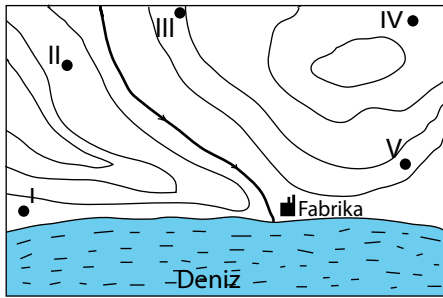
Bu durumun temel sebebi aşağıdakilerden hangisidir?

- A) Hammaddenin bozulabilir olması
B) Dağıtım maliyetlerinin azaltılması
C) Üretim potansiyelinin artırılmak istenmesi
D) Fabrika kurulum maliyetinin düşük olması
E) Gıda sanayisinin pazar alanının geniş olması

2. Aşağıdakilerden hangisi üretim dağıtım ve tüketim faaliyetlerini etkileyen doğal faktörlerden değildir?

- A) Ulaşım
B) Su kaynakları
C) Hammadde
D) İklim
E) Yer şekilleri

3. Yer şekillerinin ulaşım üzerindeki etkisi üretim, dağıtım ve tüketim faaliyetlerini etkilemektedir.



Buna göre haritada gösterilen fabrikada üretilen bir ürünün numaralandırılarak verilen yerleşim merkezlerinin hangisinde daha yüksek fiyata satılması beklenir?

- A) I B) II C) III D) IV E) V

4. Nükleer enerji santrallerinin yer seçiminde etkili olan faktörlerden;

- I. deprem riskinin düşük olması,
II. hammaddeye yakın olması,
III. su kaynaklarına yakın olması,
III. iş gücüne yakın olması

hangileri diğerlerine göre daha fazla etkili olmaktadır?

- A) I ve II
B) I ve III
C) II ve III
D) II ve IV
E) III ve IV

5. Üretim faaliyetlerini etkileyen faktörlerden birisi de tüketim faaliyetleridir.

Buna göre aşağıdakilerden hangisi bir ürünün tüketiminin artmasına bağlı olarak üretiminin artmasına örnek olarak gösterilemez?

- A) Ülkemizde dini bayramlar öncesi şekerleme ürünlerinin üretiminin artması
B) Yaz mevsiminde soğuk içecek üretiminin artış göstermesi
C) Kuş gribi vakalarının görüldüğü dönemde kırmızı et üretiminin artış göstermesi
D) Kahveye olan talebin artmasına bağlı olarak kahve ithalatının artış göstermesi
E) Kış mevsiminin uzun sürdüğü yerlerde deri kıyafet üretiminin fazla olması

Üretim, Dağıtım ve Tüketimi Etkileyen Doğal ve Beşeri Faktörler

6. Japonya, Çin, Bangladeş, Hindistan gibi ülkelerde çeltik üretiminin fazla olmasına bağlı olarak pirinç insanlarnın temel besin kaynağı olmuştur.

Bu durum aşağıdakilerden hangisine örnek olarak gösterilebilir?

- A) Dağıtım faaliyetlerinin tüketim faaliyetlerini etkilemesi
- B) Saklama koşullarının dağıtım faaliyetlerini etkilemesi
- C) Tüketim faaliyetlerinin dağıtım faaliyetlerini etkilemesi
- D) Kültürel unsurların üretim faaliyetlerini etkilemesi
- E) Üretim faaliyetlerinin tüketim faaliyetlerini etkilemesi

7. Türkiye genelinde ilkbahar mevsiminin kurak, yaz döneminin yağışlı geçmesi buğday üretim miktarının azalmasına neden olacaktır. Bu durum buğday makkarna, bisküvi ve ekmek fiyatlarında artışlara neden olmaktadır.

Bu durum aşağıdakilerden hangisine örnek olarak gösterilir?

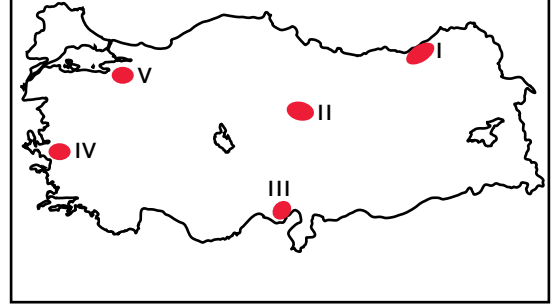
- A) Dağıtım faaliyetlerinin üretim miktarını etkilemesi
- B) Doğal koşulların tüketim faaliyetlerini etkilemesi
- C) Tüketim faaliyetlerinin doğal çevreye olan etkisi
- D) Sanayi üretiminin doğal çevreye zarar vermesi
- E) Yer şekillerinin dağıtım faaliyetlerini etkilemesi

8. Açık deniz balıkçılığında gelişmiş olan ülkeler balıkçı gemilerini balıkların işlenebileceği bir fabrika haline dönüştürmüşlerdir.

Bu durumun temel sebebi olarak aşağıdakilerden hangisi gösterilir?

- A) Üretim miktarının artırılması
- B) Balık tüketiminin yaygınlaşması
- C) Ürünlerin geniş alanlara ulaştırılması
- D) Ürünlerin bozulmadan ambalajlanması
- E) Balık üretiminde meydana gelen dalgalanmaların önlenmesi

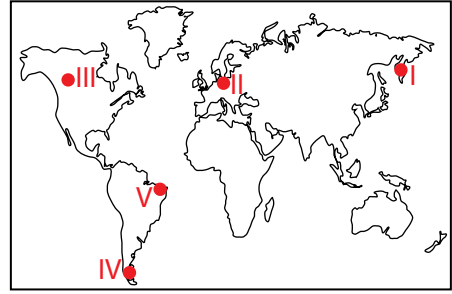
9. Ahır hayvancılığı tüketiminin fazla olduğu yerlerin çevresinde yoğunlaşmıştır.



Haritada işaretli yerlerin hangileri yukarıdaki bilgiye örnek olarak gösterilir?

- A) I ve II
- B) I ve IV
- C) II ve V
- D) III ve IV
- E) IV ve V

10.



Haritada numaralandırılarak verilen yerlerin hangisi kazak, atkı, bere, mont gibi tekstil ürünleri için uygun bir pazar alanı değildir?

- A) I
- B) II
- C) III
- D) IV
- E) V



Adı :

Soyadı:

Sınıf :

NO :

1	2	3	4	5	6	7	8	9	10	11	12
A	A	A	A	A	A	A	A	A	A	A	A
B	B	B	B	B	B	B	B	B	B	B	B
C	C	C	C	C	C	C	C	C	C	C	C
D	D	D	D	D	D	D	D	D	D	D	D
E	E	E	E	E	E	E	E	E	E	E	E

Doğru :

Yanlış :

Boş :

Puan :