

SINIF Türkiye'nin İklimi I

1. Aşağıdaki tabloda üç kentin ocak ayı sıcaklık ortalamaları verilmiştir.

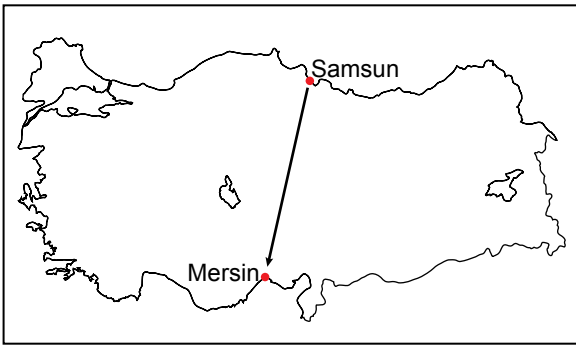
Kentler	Ocak ayı sıcaklık ortalaması (°C)
Ankara	-1
Sivas	-5
Erzurum	-12

- I. Enlemlerin farklı olması
II. Yükselti farkı
III. Karasallık

Bu kentlerin, sıcaklık ortalamalarının farklı olmasında yukarıda verilenlerden hangileri etkili olmuştur?

- A) Yalnız I B) I. ve II. C) II. ve III.
D) I. ve III. E) I., II. ve III.

2.

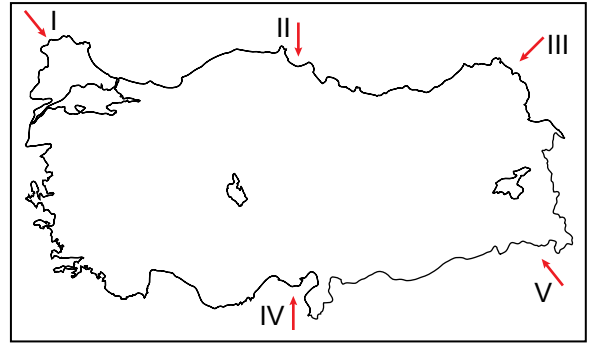


- I. Bitki örtüsünün değiştiğini
II. Sıcaklık ortalamasının arttığını
III. Orman üst sınırının azaldığını

Samsun'dan Mersin'e giden bir gözlemcinin gittiği yerde yukarıdakilerden hangilerini gözlemlediği söylenemez?

- A) Yalnız I B) Yalnız II C) Yalnız III
D) I. ve II. E) II. ve III

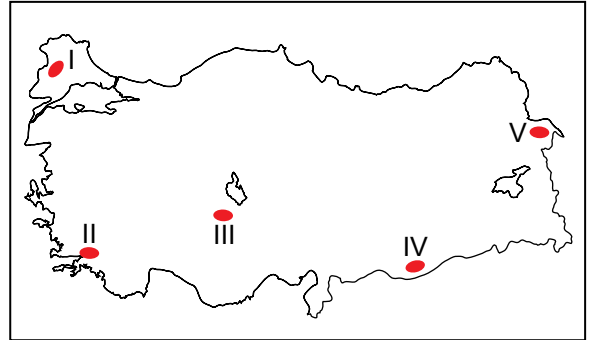
3.



Kış mevsiminde yukarıda verilen yerel rüzgarlardan hangisinin gittiği yerde yağış oluşturma ihtimali diğerlerinden daha düşüktür?

- A) I B) II C) III D) IV E) V

4.



Harita üzerinde numaralandırılarak verilen yerlerden hangisinin yıllık yağış miktarı diğerlerine göre daha fazladır?

- A) I B) II C) III D) IV E) V

5. Bir yerin deniz seviyesinde olduğu düşünülerek hesaplanan sıcaklık değerine indirgenmiş sıcaklık denilmektedir.

Aşağıdaki illerin merkezlerinden hangisinin gerçek sıcaklığı ile indirgenmiş sıcaklığı arasındaki fark diğerlerinden daha fazladır?

- A) Ankara B) Erzurum
C) Edirne D) Antalya
E) Kütahya

Türkiye'nin İklimi I

6. Rüzgarların yönü üzerinde yer şekilleri, basınç merkezlerinin konumu ve Dünya'nın günlük hareketi etkili olmaktadır.

Bu bilgiden yola çıkarak Çanakkale boğazı ve çevresinde rüzgarların daha çok hangi yönde esmesi beklenir?

- A) Doğu - Batı
B) Kuzey - Güney
C) Doğu - Kuzeydoğu
D) Doğu - Güneydoğu
E) Kuzeydoğu - Güneybatı

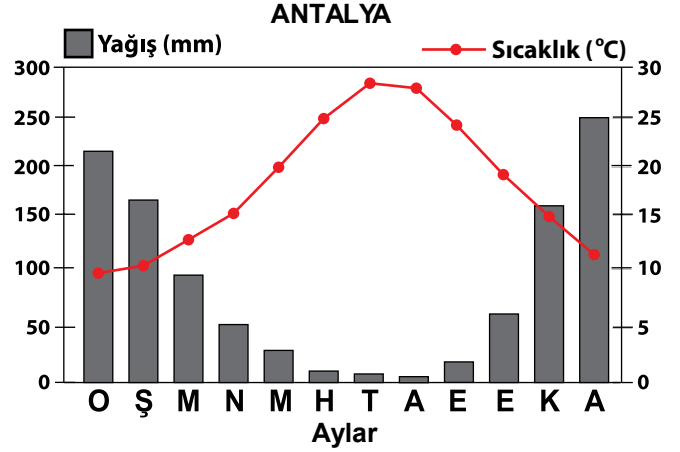
7. Aşağıdakilerden hangisi Türkiye'nin iklimi üzerinde etkili olan faktörlerden biri değildir?

- A) Dağların uzanışı
B) Kara kütlelerine göre konumu
C) Başlangıç meridyenine uzaklığı
D) Ortalama yükseltisinin fazla olması
E) Çevresindeki basınç merkezleri

8. Aşağıdaki illerimizden hangisi diğerleriyle aynı iklim bölgesinin sınırları içerisinde yer almaz?

- A) Şanlıurfa B) Elazığ C) Sivas
D) Hatay E) Kırıkkale

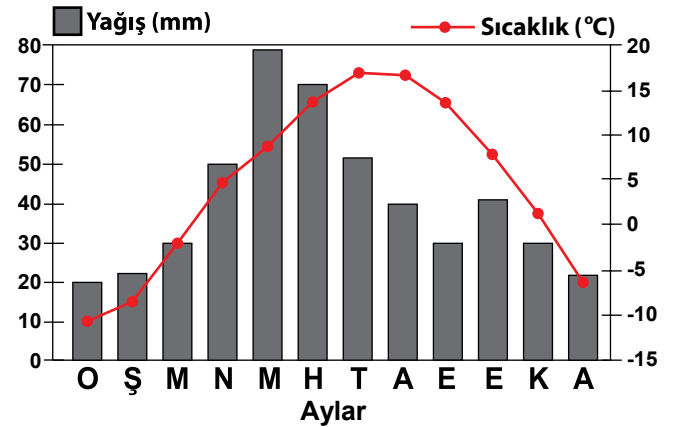
9. Aşağıda Antalya kentine ait yıllık sıcaklık ve yağış grafiği verilmiştir.



Grafikteki bilgilere bakılarak aşağıdaki çıkarımlardan hangisi yapılamaz?

- A) Yağış rejimi düzensizdir.
B) En sıcak ay temmuz ayıdır.
C) Yıllık sıcaklık farkı yaklaşık 20 °C'dir.
D) Yıllık yağış miktarı 300 mm'nin altındadır.
E) Kış mevsiminde kar yağışları görülmez.

10. Aşağıda bir merkezin yıllık sıcaklık ve yağış dağılımını gösteren grafik verilmiştir.



Bu grafik ülkemizde aşağıdaki illerden hangisine ait olabilir?

- A) Mersin B) Rize C) İzmir
D) Ankara E) Samsun



Adı :
Soyadı :
Sınıf :
NO :

	1	2	3	4	5	6	7	8	9	10	11	12
A	A	A	A	A	A	A	A	A	A	A	A	A
B	B	B	B	B	B	B	B	B	B	B	B	B
C	C	C	C	C	C	C	C	C	C	C	C	C
D	D	D	D	D	D	D	D	D	D	D	D	D
E	E	E	E	E	E	E	E	E	E	E	E	E

Doğru :
Yanlış :
Boş :
Puan :