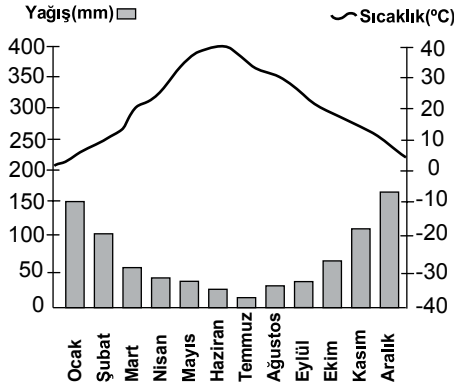


## SINIF Büyük İklim Tipleri

1. Aşağıdaki iklim tiplerinden hangisi sıcak kuşakta yağın olan iklim tiplerinden değildir?

- A) Savan iklimi                      B) Muson iklimi  
C) Çöl iklimi                         D) Akdeniz iklimi  
E) Ekvatorial iklimi

2. Aşağıda bir yere ait yıllık sıcaklık ve yağışın aylara göre dağılışı verilmiştir.



Grafiğe bakılarak bu yer hakkında aşağıdaki bilgilerinden hangisine ulaşamaz?

- A) Yağış rejiminin düzenli olduğu  
B) Kuzey Yarım Küre' de bir yere ait olduğu  
C) Yaz aylarında yağışların 50 mm den az olduğu  
D) Kış mevsiminde yağış miktarının daha fazla olduğu  
E) Sıcaklık değerlerinin yıl boyunca 0 °C' nin altına düşmediği

3. • Yıllık sıcaklık farkı yaklaşık olarak 25 °C dir.  
• Yıllık yağış miktarı 300 - 500 mm arasındadır.  
• Doğal bitki örtüsü bozkırdır.

Yukarıda özellikleri verilen iklim tipi hangisidir?

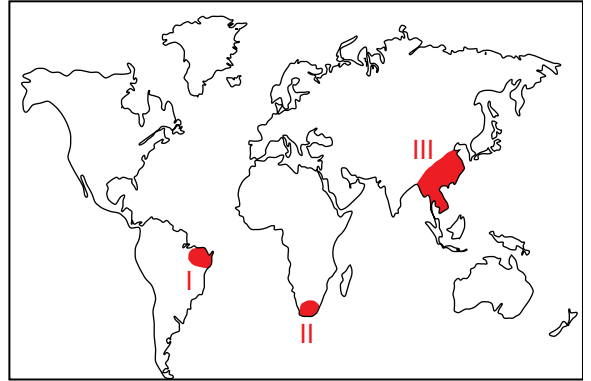
- A) Savan iklimi                      B) Step iklimi  
C) Muson iklimi                     D) Kutup iklimi  
E) Akdeniz iklimi

4. • Oluşumunda kara ve denizlerin ısınma özelliklerinin farklı olması etkili olmuştur.  
• En belirgin yaşandığı yer Güneydoğu Asya'dır

Yukarıda özellikleri verilen iklim tipi hangisidir?

- A) Step iklimi                         B) Çöl iklimi  
C) Muson iklimi                     D) Ilıman okyanusal iklim  
E) Tundra iklimi

5.



Haritadaki taralı bölgelerde etkili olan iklim tipleri aşağıdakilerden hangisinde doğru verilmiştir?

- | I             | II         | III        |
|---------------|------------|------------|
| A) Çöl        | Akdeniz    | Karasal    |
| B) Akdeniz    | Muson      | Kutup      |
| C) Tundra     | Ekvatorial | Akdeniz    |
| D) Ekvatorial | Akdeniz    | Muson      |
| E) Muson      | Savan      | Ekvatorial |

6. Aşağıdaki iklim tiplerinden hangisinde yağış rejimi düzenlidir?

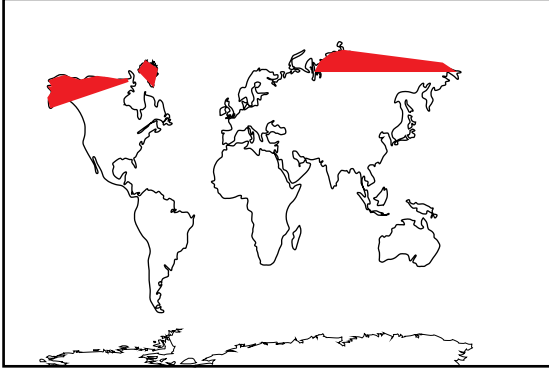
- A) Muson                                 B) Savan  
C) Tundra                                D) Akdeniz  
E) Ekvatorial

## Büyük İklim Tipleri

7. Aşağıdaki iklim tiplerinden hangisinin oluşumunda mevsimlik rüzgarlar etkili olmuştur?

- A) Ekvatorial iklim                      B) Akdeniz iklimi  
C) Muson iklimi                         D) Okyanusal iklim  
E) Tundra iklimi

8.



Haritada etkili olduğu yerler gösterilen iklim tipi aşağıdakilerden hangisidir?

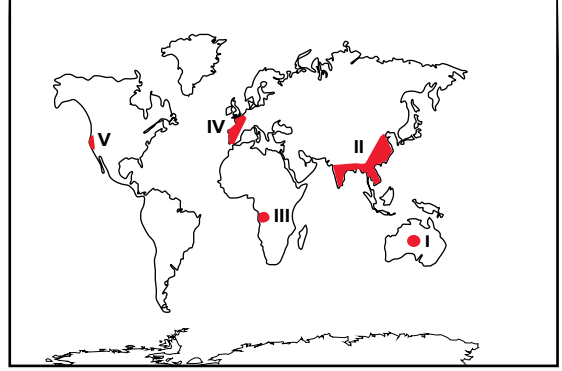
- A) Akdeniz iklimi                      B) Savan iklimi  
C) Muson iklimi                         D) Step iklimi  
E) Tundra iklimi

9. Aşağıda verilen iklim tiplerinde yaygın olarak görülen bitki örtüsü eşleştirmelerinden hangisi yanlıştır?

İklim TipiBitki Örtüsü

- A) Savan iklimi                      Savan  
B) Muson iklimi                      Geniş yapraklı orman  
C) Step iklimi                         Bozkır  
D) Akdeniz iklimi                      Maki  
E) Okyanusal iklim                      Tayga ormanları

10.



Haritada numaralandırılarak verilen yerlerden hangisinde günlük sıcaklık farkları diğerlerine göre daha fazladır?

- A) I    B) II    C) III    D) IV    E) V

11. Tropikal iklim tipinde yağışın mevsimlere göre dağılışı düzenli olup yıllık yağış miktarı 2500 civarındadır.

- I. Buharlaşma miktarının fazla olması  
II. Bitki örtüsünün gür olması  
III. Yıllık sıcaklık farkının az olması

Bu durumun nedeni olarak yukarıdakilerden hangileri gösterilebilir?

- A) Yalnız I                      B) Yalnız II                      C) Yalnız III  
D) I. ve II                      E) I. ve III



Adı : .....  
Soyadı : .....  
Sınıf : .....  
NO : .....

1	2	3	4	5	6	7	8	9	10	11	12
A	A	A	A	A	A	A	A	A	A	A	A
B	B	B	B	B	B	B	B	B	B	B	B
C	C	C	C	C	C	C	C	C	C	C	C
D	D	D	D	D	D	D	D	D	D	D	D
E	E	E	E	E	E	E	E	E	E	E	E

Doğru : .....  
Yanlış : .....  
Boş : .....  
Puan : .....