

SINIF Türkiye'de Tarım

1. Türkiye'de aynı dönemde ekilen buğdayın yetiştirme süresi batıdan doğuya doğru gidildikçe uzar.

Bu durum Türkiye'nin aşağıdaki özelliklerinden hangisi ile açıklanabilir?

- A) Matematik konum
B) Bitki örtüsü
C) Toprak özellikleri
D) Yer şekilleri
E) Denizlere göre konumu

2. Ülkemizde bazı tarım ürünleri, Gıda Tarım ve Hayvancılık Bakanlığı tarafından verilen özel izin ile sadece belirtilen yerlerde yetiştirilmektedir.

Aşağıdakilerden hangisi bu tarım ürünlerinden biri değildir?

- A) Haşhaş
B) Pirinç
C) Kenevir
D) Tütün
E) Nohut

3. I. Üretim sürecinde doğanın dengesini bozacak ve insan sağlığına zararlı olabilecek kimyasal madde kullanmadan yapılan bir tarım şeklidir.
II. Yağışın az, sulamanın yetersiz olduğu alanlarda tarlaların bir yıl ekilip, bir yıl dinlendirilmesi şeklinde uygulanan bir tarım yöntemidir.
III. Kış sıcaklık ortalamasının 0 °C'nin altına inmediği yerlerde uygulanan tarım yöntemidir. Bu yöntem tarım ürünlerinin mevsimi dışında yetiştirilmesine olanak sağlar.

Numaralandırılarak tanımlanan tarım kavramları aşağıdakilerin hangisinde doğru verilmiştir?

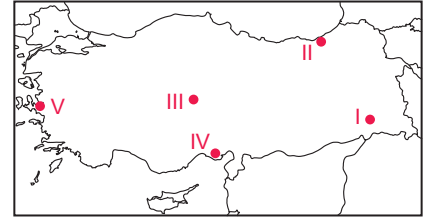
	I	II	III
A)	Organik	Nadas	Seracılık
B)	İntansif	Organik	Ekstansif
C)	Seracılık	Nadas	Organik
D)	Organik	Ekstansif	Seracılık
E)	Ekstansif	Nadas	Organik

4. Türkiye'de farklı iklim tiplerinin görülmesi yetiştirilen tarım ürünlerinin çeşitliliğini artırmıştır.

Ülkemizde aşağıda verilen tarım ürünleri eşleştirmelerinden hangilerinin yetiştirilmesi, farklı iklim tiplerinin görüldüğüne kanıt olarak gösterilebilir?

- A) Çay - Fındık
B) Buğday - Arpa
C) Zeytin - Fındık
D) Turunçgil - İncir
E) Mercimek - Arpa

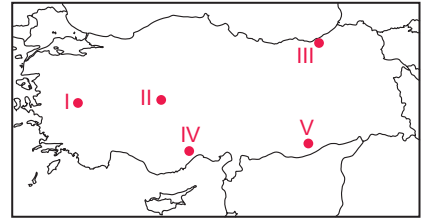
- 5.



Türkiye'nin iklim koşulları göz önüne alındığında harita üzerinde numaralandırılarak verilen yerlerden hangisinde sulama faaliyetlerine daha az ihtiyaç duyulmaktadır?

- A) I B) II C) III D) IV E) V

6. Buğday, yetiştirme döneminde yağış olgunlaşma döneminde ise sıcaklık isteği fazla olan bir tarım ürünüdür. Bu nedenle yaz yağışı olan yerlerde buğday tarımı yaygın değildir.



Haritada numaralandırılarak verilen yerlerden hangisi buğday tarımı için uygun değildir?

- A) I B) II C) III D) IV E) V

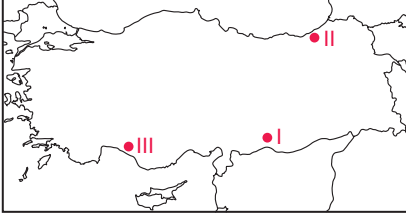
Türkiye'de Tarım

7. Aşağıda K, L ve M bitkilerinin yetişme şartları verilmiştir.

K bitkisi: Yetiştirme döneminde yağış, olgunlaşma döneminde ise yüksek sıcaklık ister.

L bitkisi: Yıllık yağış miktarının fazla ve yağış rejiminin düzenli olduğu yerlerde yetişir.

M bitkisi: Kış sıcaklıklarının yüksek, don olayının görülmediği yerlerde yetişir.



Buna göre K, L ve M bitkilerinin haritada numaralandırılarak verilen yerlerin hangilerinde yetiştirilmesi daha uygundur?

	K	L	M
A)	II	I	III
B)	I	II	III
C)	III	II	I
D)	II	III	I
E)	III	I	II

8. I. Yıllık sıcaklık farkının fazla olması
II. Kış aylarında sıcaklık ortalamasının 0 °C'nin altına düşmemesi
III. Her mevsimin yağışlı olması

Yukarıdakilerden hangileri Türkiye'de muz tarımının yapıldığı alanların özelliklerinden değildir?

- A) Yalnız I
B) Yalnız II
C) Yalnız III
D) I. ve III.
E) II. ve III.

9. Aşağıdaki tarım ürünlerinden hangisinin Türkiye'deki yetişme alanı daha yaygındır?

- A) Fındık
B) Zeytin
C) Pirinç
D) Turunçgil
E) Üzüm

10. Bir yerde doğal koşulların etkisiyle en çok yetiştirilen tarım ürününe o yer için mono kültür bitki denir.

Aşağıdakilerden hangisinde verilen tarım ürünü, yer eşleştirmesi bu duruma örnek oluşturmaz?

- A) Ayçiçeği - Edirne
B) Fındık - Ordu
C) Muz - Anamur
D) Pamuk - Artvin
E) Çay - Rize

11. Türkiye'de teknolojik gelişmelerle birlikte çeşitli tarım ürünlerinin ekim alanı genişlemiştir.

Türkiye'de sulama imkânlarının geliştirilmesine bağlı olarak aşağıdaki tarım ürünlerinden hangisinin ekim alanında daha büyük bir genişleme yaşanmıştır?

- A) Zeytin
B) Pamuk
C) Fındık
D) Haşhaş
E) İncir

12. Tarım ürünlerinin dağılışındaki en önemli faktör iklim özellikleridir.

Aşağıda tarım ürünlerinin dağılışı hakkında verilen bilgilerden hangisi parçada verilen bilgiye örnek olarak gösterilemez?

- A) Erzurum - Kars platosu üzerinde zeytin tarımının yapılamaması
B) Karadeniz kıyılarında buğday tarımının yaygın olmaması
C) Iğdır ovasında pamuk tarımının yapılabilmesi
D) Muz tarımının Anamur çevresinde yaygın olması
E) Haşhaş tarımının devlet kontrolünde gerçekleşmesi



Adı :
Soyadı :
Sınıf :
NO :

1	2	3	4	5	6	7	8	9	10	11	12
A	A	A	A	A	A	A	A	A	A	A	A
B	B	B	B	B	B	B	B	B	B	B	B
C	C	C	C	C	C	C	C	C	C	C	C
D	D	D	D	D	D	D	D	D	D	D	D
E	E	E	E	E	E	E	E	E	E	E	E

Doğru :
Yanlış :
Boş :
Puan :