

İlk Kültür Merkezleri

1. Aşağıdakilerden hangisi ilk medeniyet merkezlerinden biri değildir?

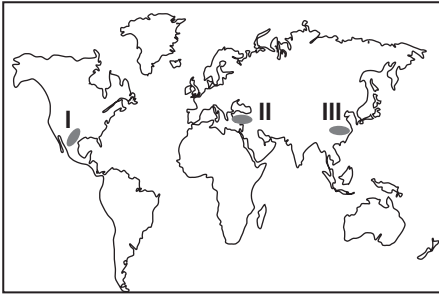
- A) Mezopotamya
B) Nil vadisi
C) İndus vadisi
D) Sibirya
E) Sarı ırmak vadisi

2. İlk medeniyetlerin doğduğu alanların seçiminde doğal çevre faktörlerinin etkisinin fazla olduğu gözlemlenmiştir.

Aşağıdaki doğal çevre faktörlerinden hangisinin ilk medeniyetlerin ortaya çıkmasında etkisi daha azdır?

- A) Yerçekilleri
B) Su kaynakları
C) Toprak özellikleri
D) İklim şartları
E) Doğal limanlar

3.



Haritada numaralandırılarak verilen alanlar ile bu alanlarda kurulan medeniyet eşleştirmesi aşağıdakilerden hangisinde doğru verilmiştir?

- | I | II | III |
|------------|---------|---------|
| A) Maya | İnka | Hint |
| B) Akdeniz | Çin | Maya |
| C) Maya | Akdeniz | Çin |
| D) Hint | Maya | Çin |
| E) Çin | İnka | Akdeniz |

4. - Fırat ve Dicle nehirleri arasında kurulmuştur.

- Tarıma bağlı olarak oluşan köyler zamanla şehirlere dönüşmüştür.
- Sümer, Babil, Akad, Asur, Elam gibi medeniyetler kurulmuştur.

Yukarıda genel özelliklerinden bazıları verilen ilk medeniyet merkezi aşağıdakilerden hangisidir?

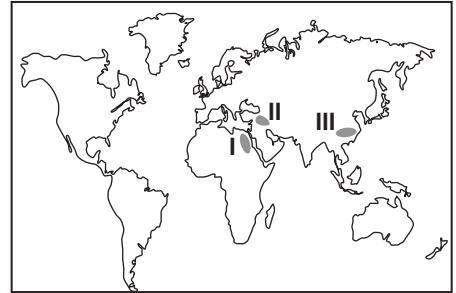
- A) Mezopotamya
D) Çin
- B) Hint
E) Orta Amerika
- C) Anadolu

5. Dünya üzerinde kurulan ilk medeniyetlerin su kaynakları çevresinde yoğunlaştığı görülür.

Aşağıda verilen akarsu ve çevresinde kurulan medeniyet eşleştirmelerinden hangisi doğrudur?

	İndus	Nil	Sarırmak
A)	Maya	Mısır	Mezopotamya
B)	Mısır	Mezopotamya	Maya
C)	Hint	Mısır	Çin
D)	Mısır	Maya	Mezopotamya
E)	Maya	Mısır	Çin

6.



Yukarıda işaretlenmiş yerlerde yaşayan medeniyetler hakkında aşağıda verilenlerden hangisi yanlıştır?

- A) III nolu medeniyet yazıyı ilk kullanandır.
B) III nolu medeniyet kağıdı bulmuştur.
C) I nolu medeniyet astronomide ilerlemiştir.
D) II nolu medeniyet ilk ticaret şehirleri kurmuştur.
E) I nolu medeniyet tarihteki ilk yazılı antlaşmayı yaptı.

İlk Kültür Merkezleri

7. Etrafının deniz ve çöllerle kaplı olması diğer medeniyetlerle etkileşimini olumsuz etkilemiştir. Bu sayede kendine özgü bir medeniyet olarak uzun süre varlığını sürdürmüştür.

Bu medeniyet aşağıdakilerden hangisidir?

- A) Mısır B) İngiltere C) Hint
D) Anadolu E) Aztek

8. - Önce Meksika, zamanla Orta Amerikaya hakim olmuştur.

- XIII - XVI. yy arasında yaşamıştır.
- Bahçe sanatı, sulama, nadas uygulamışlardır.
- Dini inanışları yaşamlarında çok önemlidir.

Yukarıda özellikleri verilen medeniyet aşağıdakilerden hangisidir?

- A) İnka B) Maya C) Aztek
D) Mısır E) Hint

9. - And Dağları'nda kurulmuştur.

- XII ve XVI. yy arasında yaşamışlardır.
- Güneşin hareketleri konusunda uzmanlaşmışlardır.
- Sulama yöntemini bulmaları sayesinde tarımda ilerlemişlerdir.

Yukarıda özellikleri verilen medeniyet aşağıdaki bölgelerden hangisinde kurulmuştur?

- A) Hint Yarımadası B) Güney Amerika
C) Orta Amerika D) Kuzey Afrika
E) Güney Afrika

10. Akdeniz çevresinde kurulan medeniyetlerin en belirgin özelliği denizcilik faaliyetlerinde ilerlemiş olmalarıdır.

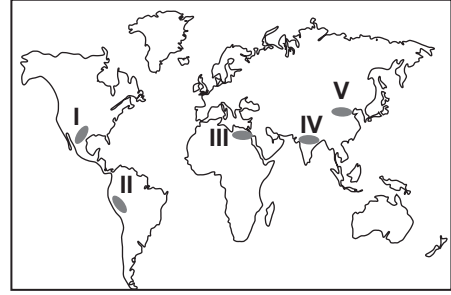
Akdeniz medeniyetlerinin bu özelliği kazanmasındaki temel faktör aşağıdakilerden hangisidir?

- A) Tarım alanlarının darlığı
B) Akarsuların azlığı
C) Yerüstü ve yeraltı kaynakların azlığı
D) Doğal liman sayısının fazlalığı
E) Ekonomik değer yüksek ürünlerin üretilmesi

11. - Matematik, Tıp, Astronomi, Felsefe'de önemli gelişmeler sağlamışlardır.

- Matematikte sıfır (0) terimini bulmuşlardır.

- Mimari ve heykeltçilikte ilerlemişlerdir.



Yukarıda özellikleri verilen medeniyet haritada kaç numara ile gösterilmiştir?

- A) I B) II C) III D) IV E) V

12. Akdeniz ve çevresinde çok fazla medeniyet kurulmuştur. Bu medeniyetlerin Dünya'da bilim, sanat, tarih gibi bir çok alana katkı ve etkileri olmuştur.

Aşağıdaki medeniyetlerden hangisi Akdeniz medeniyetleri arasında yer almaz?

- A) İyon
B) Roma
C) Lidya
D) Fenike
E) İnka



Adı :
Soyadı :
Sınıf :
NO :

1	2	3	4	5	6	7	8	9	10	11	12
A	A	A	A	A	A	A	A	A	A	A	A
B	B	B	B	B	B	B	B	B	B	B	B
C	C	C	C	C	C	C	C	C	C	C	C
D	D	D	D	D	D	D	D	D	D	D	D
E	E	E	E	E	E	E	E	E	E	E	E

Doğru :
Yanlış :
Boş :
Puan :