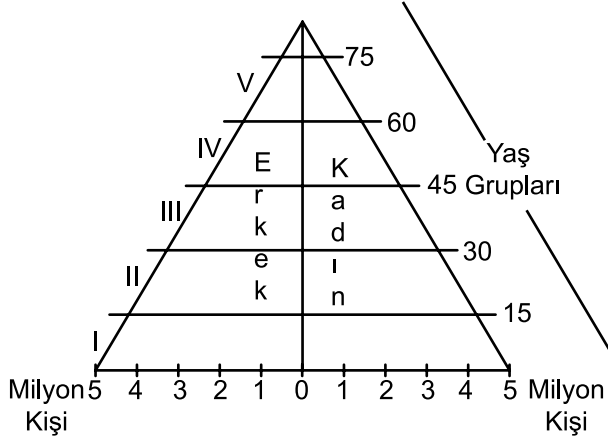


SINIF Nüfus Politikaları

1.



Yukarıdaki temsili nüfus pramidinde bazı yaş grupları numaralandırılarak gösterilmiştir.

Buna göre nüfus artış hızında meydana gelen değişim hakkında numaralandırılmış yerlerden hangisi bilgi verir?

- A) I B) II C) III D) IV E) V

2. Nüfus artış hızını azaltmaya yönelik nüfus politikası uygulayan bir ülkenin aşağıdakilerden hangisini yapması uygun değildir?

- A) Eğitim düzeyini yükseltmek
B) Evlenme yaşını düşürmek
C) Sağlık hizmetlerini iyileştirmek
D) Aile planlamasına önem vermek
E) Kadınların iş hayatına katılımını artırmak

3. 1950'li yıllara kadar Çin hükümeti nüfusu askeri güç olarak gördüğü için nüfus artış hızını arttırmaya yönelik politikalar uyguluyordu. 1953 yılı nüfus sayımlarında nüfusu 583 milyon olarak açıklanınca nüfus artış hızını düşürücü politikalar uygulamaya başladı. Bunun için ilk önce şehirlerde doğum kontrol çalışmaları başlatmış ancak etkili olmamıştır. Nüfus artış hızı planlanandan daha yüksek çıkınca 1979'da aile başına tek çocuk sahibi olma zorunluluğu getirilmiştir.

Çin Hükümetinin bu uygulama ile aşağıdakilerden hangisini amaçladığı söylenebilir?

- A) Etnik çeşitliliği artırmak
B) İş gücü ihtiyacını karşılamak
C) Aşırı nüfus artışını engellemek
D) Milli gelirin dengeli dağılımını sağlamak
E) Bölgeler arasındaki nüfus hareketlerini azaltmak

4. Bir ülkede uygulanan nüfus politikası sonucunda;

- Nüfusun yaş ortalamasında
- Kişi başına düşen milli gelir miktarında
- Tasarruf miktarında

artış olmuştur.

Buna göre bu ülke hangi nüfus politikasını izlemiştir?

- A) Nüfusu artırıcı
B) Nüfus artış hızını azaltıcı
C) Nüfusun eğitim düzeyini artırıcı
D) Nüfusun nitelik ve niceliği artırıcı
E) Nüfusun ülke geneline dağılımını dengeleyici

5. Aşağıdaki ülkelerden hangisi iş gücüne duyduğu ihtiyaçtan dolayı nüfusu artırıcı yönde politika uygulamıştır?

- A) Mısır B) Nijerya C) Somali
D) Kenya E) Almanya

6. 11. sınıf öğrencilerinden Ahmet ile Ayşe farklı iki ülkenin uyguladığı nüfus politikası hakkında arkadaşlarına bilgi vermişlerdir.

Ayşe ; Araştırma yaptığı ülkede doğum oranlarının fazla olduğunu ve mevcut ülke olanaklarının bu nüfus artışını kaldıramadığından nüfus artış hızını azaltıcı politikalar uygulamaktadır.

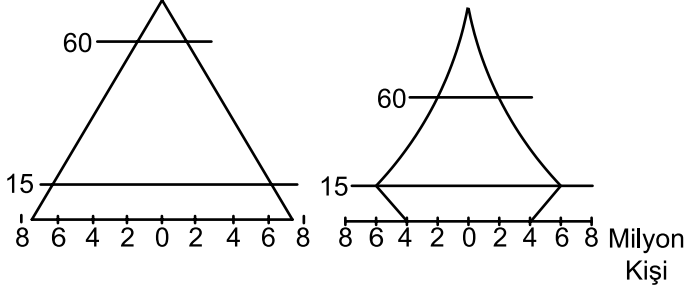
Ahmet ; 1990'lı yıllarda nüfus artış hızı çok düşük seviyelere inince ailelerin çok sayıda çocuk sahibi olmaları için teşvik kampanyalarına başlamıştır. Teşvik kampanyasıyla bir miktar artış sağlanmışsa da beklenen başarı elde edilememiştir. 2010 yılında ise nüfus artış hızı %0,05'e inmiştir.

Bu bilgiler doğrultusunda bu ülkeler aşağıdakilerden hangisinde doğru verilmiştir?

- | | <u>Ayşe</u> | <u>Ahmet</u> |
|----|-------------|--------------|
| A) | Kanada | Kenya |
| B) | Fransa | Endonezya |
| C) | Çin | Japonya |
| D) | Hindistan | Pakistan |
| E) | Malezya | Somali |

Nüfus Politikaları

7. X ülkesinde uygulanan nüfus politikaları sonucunda ülkenin nüfus piramidindeki değişiklikler aşağıda gösterilmiştir.



Bu ülkede aşağıdakilerden hangisinin artış gösterdiği söylenemez?

- A) Nüfus artış hızının
B) Sağlık hizmetlerinin
C) Kalkınma düzeyinin
D) Yaşlı nüfus oranının
E) Eğitimli nüfus miktarının
8. Aşağıdaki tabloda bir ülkenin yıllara göre nüfusunun yaş grubu dağılımı verilmiştir.

| Yıllar | Yaş Grupları | | | Yıllık Ort. Artış Oranı % | Toplam Nüfus (Milyon) |
|--------|---------------|----------------|---------------|---------------------------|-----------------------|
| | 0-14 (Milyon) | 15-64 (Milyon) | 65 + (Milyon) | | |
| 1960 | 30,2 | 64,2 | 5,7 | 0,92 | 94,3 |
| 1985 | 21,15 | 68,12 | 10,3 | 0,67 | 121,1 |
| 2010 | 13,2 | 63,7 | 23,1 | 0,05 | 128,1 |

Tablodaki bilgiler dikkate alındığında bu ülkenin yakın gelecekte hangi sorunla karşılaşması beklenir?

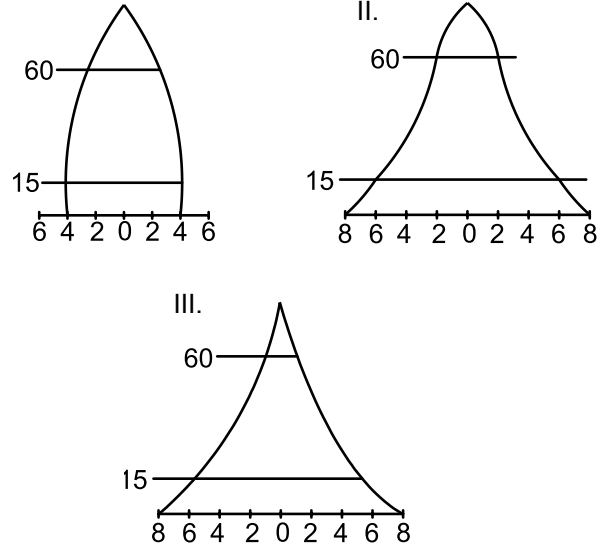
- A) Etnik çatışma
B) Yurt dışına beyin göçü verme
C) İş gücüne ihtiyaç duyması
D) Gelir dağılımında düzensizlik
E) Çevre kirliliğinde artış
9. 21.Yüzyılın başlarında nüfus artış hızı durma noktasına gelen Japonya, doğal nüfus artışının sağlanması için çeşitli politikalar geliştirmiştir. Günümüzde aşağıdaki ülkelerin hangisinde buna benzer bir durum yaşanmaktadır?
- A) Etiyopya B) Nijerya C) Hindistan
D) Sudan E) Belçika

10. I. Nüfus artış hızını azaltma
II. Nüfus artış hızını yükseltme

Yukarıda numaralandırılarak verilen nüfus politikalarını uygulayan ülkeler aşağıdakilerin hangisinde doğru verilmiştir?

- | | | |
|----|-----------|-----------|
| | I | II |
| A) | Hindistan | Mısır |
| B) | Belçika | İtalya |
| C) | Japonya | Mısır |
| D) | Çin | Japonya |
| E) | İtalya | Hindistan |

11. Aşağıda üç farklı ülkeye ait nüfus piramitleri verilmiştir.



Bu ülkelerin hangilerinin nüfus artış hızını artırıcı politikalar uygulaması beklenir?

- A) Yalnız I B) Yalnız II C) Yalnız III
D) I. ve II. E) II. ve III.



Adı :

Soyadı :

Sınıf :

NO :

| | | | | | | | | | | | |
|---|---|---|---|---|---|---|---|---|----|----|----|
| 1 | 2 | 3 | 4 | 5 | 6 | 7 | 8 | 9 | 10 | 11 | 12 |
| A | A | A | A | A | A | A | A | A | A | A | A |
| B | B | B | B | B | B | B | B | B | B | B | B |
| C | C | C | C | C | C | C | C | C | C | C | C |
| D | D | D | D | D | D | D | D | D | D | D | D |
| E | E | E | E | E | E | E | E | E | E | E | E |

Doğru :

Yanlış :

Boş :

Puan :