

## SINIF İnsan, Doğa ve Çevre

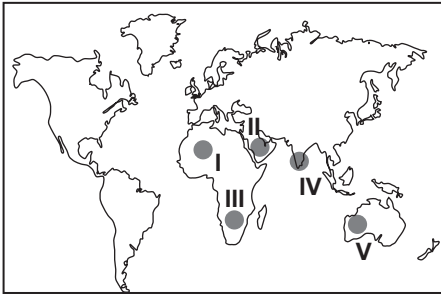
1. İklimi etkileyen faktörleri ve iklimin insan yaşamı üzerindeki etkilerini konu edinen coğrafyanın alt dalı aşağıdakilerden hangisidir?

- A) Jeomorfoloji B) Hidrografya  
C) Klimatoloji D) Meteoroloji  
E) Biyocoğrafya

2. Aşağıdakilerden hangisi insanın doğaya etkisine örnek olarak gösterilemez?

- A) Orman alanlarının tarım alanı haline getirilmesi  
B) Eğimli alanlarda tüneller açarak yolların yapılması  
C) Vadiler içine kurulan yerleşim alanlarının aşırı yağış sonucu su altında kalması  
D) Sulak alanların kurutulup yerleşim alanı haline getirilmesi  
E) Yabani bitkilerin aşılama yapılarak kültür bitkileri haline getirilmesi

3.



İnsan yaşamını zora sokan en büyük etkenlerden biri de kuraklıktır.

Haritadaki taralı alanlardan hangisinde böyle bir durum söz konusu değildir?

- A) I B) II C) III D) IV E) V

4. Aşağıdakilerden hangisi doğal ortamı oluşturan temel unsurlardan biri değildir?

- A) Atmosfer B) Litosfer  
C) Hidrosfer D) Biyosfer  
E) Ekzosfer

5. Coğrafya, doğal çevredeki unsurların insanlar tarafından sürdürülebilir bir şekilde kullanılmasını amaç edinir.

Aşağıdaki doğal çevre ve kullanım şekli eşleştirmelerinden hangisi yanlış arazi kullanımına örnek gösterilebilir?

Doğal Çevre	Kullanım Şekli
A) Platolar	Yerleşim alanı
B) Göller	Atık depolama alanı
C) Delta ovaları	Tarım alanı
D) Eğimli alanlar	Rekreasyon alanı
E) Deniz kıyıları	Turizm alanı

6. İnsanoğlunun, doğayla uyumlu ve sürdürülebilir projeleri hayata geçirebilmesi, yaşadığı doğal çevreyi yeterince tanimasından geçmektedir. İşte bu noktada, insanoğlunun karşısına coğrafya bilimi çıkmaktadır. Coğrafya bilimini, insan ile doğal çevre arasındaki ilişkiyi kendi ilkeleriyle araştıran, inceleyen elde ettiği sonucu bir sentez halinde sunan bir bilim dalı olarak tanımlayabiliriz. Coğrafya biliminin elde ettiği bulguların, insanların gündelik hayatına gerektiği gibi tatbik edilmesi durumunda etkin bir arazi kullanımı da sağlanabilmiş olur. Böylece, doğal kaynaklar hem amacı doğrultusunda kullanılmış hem de gereksiz kullanımın önüne geçilebilmiş olur.

Verilen metinden, aşağıdaki yargılardan hangisine ulaşamaz?

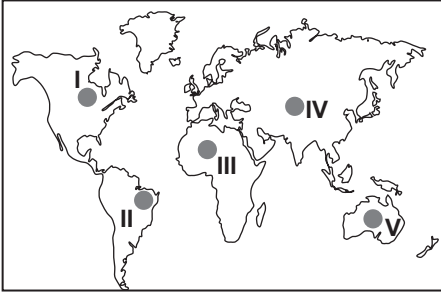
- A) İnsanoğlunun doğal çevreyi yeterince tanınması gerektiğine  
B) Coğrafyanın insan ile doğal çevre arasındaki ilişkiyi inceleyen bir bilim olduğuna  
C) İnsanoğlunun doğal çevreyi tanınması yalnızca coğrafya bilimiyle mümkün olduğuna  
D) Doğal kaynakların amacı doğrultusunda kullanılmasının gerektiğine  
E) Etkin arazi kullanımı için coğrafya biliminin bulgularının önemli olduğuna

## İnsan, Doğa ve Çevre

7. Aşağıdakilerden hangisi beşeri coğrafyanın araştırma konularından değildir?

- A) Tabakaların duruşu
- B) Tarım bölgeleri
- C) Ulaşım sistemleri
- D) Turizm bölgeleri
- E) Organize sanayi bölgeleri

8. Nem oranı yüksek ve yağış miktarı fazla olan alanlarda ahşap evler yaygındır.



Haritada verilen alanların hangisinde ahşap evlerin daha yaygın olması beklenir?

- A) I
- B) II
- C) III
- D) IV
- E) V

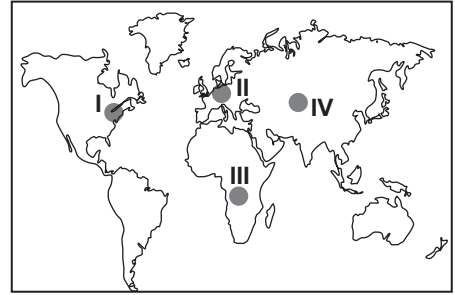
9. Aşağıdakilerden hangisi Jeomorfolojiye yardımcı bilimlerden almaz?

- A) Jeoloji
- B) Jeofizik
- C) Litoloji
- D) Zooloji
- E) Arkeoloji

10. Aşağıdakilerden hangisi coğrafya biliminin incelediği konulardan birisi değildir?

- A) Bitkilerin genetik yapısı
- B) Yeryüzü şekilleri
- C) Yerin şekli ve hareketleri
- D) Doğal afetler
- E) Ekonomik faaliyetler

11. İnsanların yapmış olduğu her türlü ekonomik faaliyet doğal çevreye az ya da çok zarar vermektedir. Örneğin, sanayi alanlarının yoğun olduğu alanlarda başta su kirliliği olmak üzere hava, toprak, gürültü gibi pek çok kirlilik yaşanmaktadır.



Haritada numaralandırılmış alanlardan hangilerinde, doğal çevrenin sanayileşmeye bağlı olarak daha fazla zarar gördüğü söylenebilir?

- A) I. ve II.
- B) I. ve III.
- C) II. ve III.
- D) II. ve IV.
- E) III. ve IV.

12. Aşağıdakilerden hangisi yanlış arazi kullanımına örnek gösterilemez?

- A) Alüvyon tabanlı ovalara yapılan evlerin deprem sonucu ağır tahribat görmesi
- B) Orman alanlarının hayvan otlatmak amacıyla yok edilmesi
- C) Heyelan riski taşıyan yerlere yerleşim alanı kurulması sonucu can kayıplarının yaşanması
- D) Geniş ve verimli vadi tabanlarında tarımsal faaliyetlerin yapılması
- E) Kıyı bölgelerinin sanayi alanı haline getirilmesi



Adı : .....

Soyadı : .....

Sınıf : .....

NO : .....

1	2	3	4	5	6	7	8	9	10	11	12
A	A	A	A	A	A	A	A	A	A	A	A
B	B	B	B	B	B	B	B	B	B	B	B
C	C	C	C	C	C	C	C	C	C	C	C
D	D	D	D	D	D	D	D	D	D	D	D
E	E	E	E	E	E	E	E	E	E	E	E

Doğru : .....

Yanlış : .....

Boş : .....

Puan : .....